



Programa de Cálculo Mental



JUNTA DE EXTREMADURA

Consejería de Educación



En esta unidad trabajaremos:

Practicar sumas:

- De dos números iguales de un solo dígito, de dos dígitos, de tres dígitos.**
- Sumar 1 a un número dado**
- Sumas de centenas completas.**
- Sumas de centenas con decenas completas y unidades.**

Practicar restas:

- Restar 1 a un número dado.**

Practicar multiplicaciones:

- por 10,100,tablas.**

Calcula, escribe y comprueba
tu resultado.

$1+1$



$2+2$



$3+3$



$4+4$



$5+5$



$6+6$



$7+7$



$8+8$



$9+9$



1.- SUMAMOS 1 A UN NUMERO DADO:

$2+1$

$3+1$

$4+1$

$5+1$

$6+1$

$7+1$

$8+1$

$9+1$

$20+1$

$34+1$

$36+1$

$55+1$

$65+1$

$78+1$

$89+1$

$33+1$

2.-RESTAMOS 1 A UN NUMERO DADO:

$7-1$

$9-1$

$10-1$

$15-1$

$18-1$

$23-1$

$34-1$

$12-1$

$54-1$

$65-1$

$60-1$


$76-1$

$88-1$

$96-1$

$70-1$

$87-1$



1.- RESUELVO SITUACIONES DE LA VIDA COTIDIANA:

(si necesitas ayuda
utiliza el tampón)

Tengo una moneda de 10 céntimos y otra de 20 céntimos. ¿Cuánto dinero tengo?



10



20



tampón



Mi madre me dio 50 céntimos y me gasté en gominolas 20 céntimos. ¿Cuánto dinero me sobra?



50



20



SUMAR DOS NUMEROS DE UN SOLO DIGITO Y SUMAR TRES NUMEROS IGUALES DE UN SOLO DIGITO.

$3+1$

$4+2$

$6+3$

$8+4$

$5+2$

$4+4$

$4+3$

$4+5$

$2+2+2$

$5+5+5$

$3+3+3$

$4+4+4$

$6+6+6$

$7+7+7$

$9+9+9$

$8+8+8$

**COMO ACTIVIDAD COMPLEMENTARIA..**

- Contar de 5 en 5 progresiva y regresivamente.
- Contar de 10 en diez igual.
- Contar de 2 en 2, de 3 en 3 hasta el cien.

Los numeros hasta el 999

1.- Sumar dos centenas completas.

$$100+200$$

$$200+300$$

$$400+300$$

$$200+200$$

$$300+500$$

$$600+200$$

$$700+200$$

$$300+500$$

$$500+400$$

2.-Sumar centenas con decenas completas.

$$100+10$$

$$100+40$$

$$200+40$$

$$300+60$$

$$200+50$$

$$400+10$$

$$500+60$$

$$700+80$$

3.-Sumar centenas,decenas y unidades.

$$100+20+3$$

$$700+10+1$$

$$200+40+6$$


$$300+70+0$$

$$400+40+8$$

$$500+70+4$$

$$700+10+1$$

$$900+20+4$$



MULTIPLICAMOS, UNE CORRECTAMENTE

8×10

2×10

29×10

34×10



69×10

12×10

89×10

68×10

24×10

56×10

85×10

77×10

95×10

79×10

80

240

120

690

340

20

890



950

290

790

560

680

770



850



1.-AHORA MULTIPLICAMOS POR 100.

2×100

3×100

5×100

7×100

9×100

4×100

6×100

2.-TABLAS SALTEADAS.

8×8

3×9

7×5

8×6

4×9

6×2

7×3

5×1

5×3

8×8

4×6

3×6

7×4

9×3

8×5

3×4



Recuerda las explicaciones
dadas por tu profesor

Resuelvo situaciones de la vida cotidiana.

1.-Carlos compra 7 entradas para el teatro a 3 euros cada una.Calcula cuanto se gasta.



2.-Pedro tiene 600 euros y se gasta 200 en una enciclopedia.Calcula cuanto le queda.

